

BACCALAURÉAT GÉNÉRAL
Session 2012

MATHÉMATIQUES

- Série ES -

ENSEIGNEMENT OBLIGATOIRE

Durée de l'épreuve : 3 heures

Coefficient : 5

*Les calculatrices électroniques de poche sont autorisées,
conformément à la réglementation en vigueur.*

*Le sujet est composé de 4 exercices indépendants. Le candidat doit traiter tous les exercices.
Dans chaque exercice, le candidat peut admettre un résultat précédemment donné dans le
texte pour aborder les questions suivantes, à condition de l'indiquer clairement sur la copie.
Le candidat est invité à faire figurer sur la copie toute trace de recherche, même incomplète
ou non fructueuse, qu'il aura développée.
Il est rappelé que la qualité de la rédaction, la clarté et la précision des raisonnements
entreront pour une part importante dans l'appréciation des copies.*

Avant de composer, le candidat s'assurera que le sujet comporte bien 7 pages numérotées de 1 à 7.

EXERCICE 1 (6 points)*Commun à tous les candidats*

Le tableau ci-dessous donne l'évolution de la population du Nigeria, en millions d'habitants.

	1960	1965	1970	1975	1980	1985	1990	1995	2000	2005
Rang (x_i)	1	2	3	4	5	6	7	8	9	10
Population en millions (y_i)	45,148	50,414	56,467	63,948	74,523	85,151	97,338	110,449	124,842	140,879

*Source : perspective monde, université de Sherbrooke. La banque mondiale***Partie A**

- 1) Dans un premier temps, on décide de faire un ajustement affine. On note (d) la droite d'ajustement de y en x obtenue par la méthode des moindres carrés. Déterminer en utilisant la calculatrice, une équation de (d). On arrondira les coefficients au millième.
- 2) À l'aide de cet ajustement, faire une estimation de la population du Nigeria en 2010. On arrondira la réponse au millier d'habitants.

Partie B*Dans cette partie, toutes les valeurs seront arrondies au millième.*

- 1) En 2010 on a noté une population de 154,729 millions d'habitants au Nigeria. On décide alors de faire un ajustement exponentiel. Reproduire et compléter le tableau ci-dessous.

Rang (x_i)	1	2	3	4	5	6	7	8	9	10
$z_i = \ln(y_i)$										

- 2) Déterminer l'équation de la droite d'ajustement de z en x obtenue par la méthode des moindres carrés.
- 3) En déduire une expression de la population du Nigeria y en millions d'habitants en fonction du rang de l'année x sous la forme $y = k e^{mx}$.
- 4) Utiliser cet ajustement pour estimer la population du Nigeria en 2010.
- 5) D'après l'Institut National d'Etudes Démographiques (INED) la population du Nigeria devrait dépasser 430 millions d'habitants en 2050. Que peut-on penser de cette estimation ?

EXERCICE 2 (5 points)

Candidats n'ayant pas suivi l'enseignement de spécialité

Un restaurateur propose trois formules à midi.

Formule A : Plat du jour / Dessert / Café

Formule B : Entrée / Plat du jour / Dessert / Café

Formule C : Entrée / Plat du jour / Fromage / Dessert / Café

Lorsqu'un client se présente au restaurant pour le repas de midi, il doit choisir une des trois formules proposées et commander ou non du vin.

Le restaurateur a constaté qu'un client sur cinq choisit la formule A , tandis qu'un client sur deux choisit la formule B .

On sait aussi que :

- Parmi les clients qui choisissent la formule A , une personne sur quatre commande du vin.
- Parmi les clients qui choisissent la formule B , deux personnes sur cinq commandent du vin.
- Parmi les clients qui choisissent la formule C , deux personnes sur trois commandent du vin.

Un client se présente au restaurant pour le repas de midi. On considère les événements suivants :

A : « Le client choisit la formule A »

B : « Le client choisit la formule B »

C : « Le client choisit la formule C »

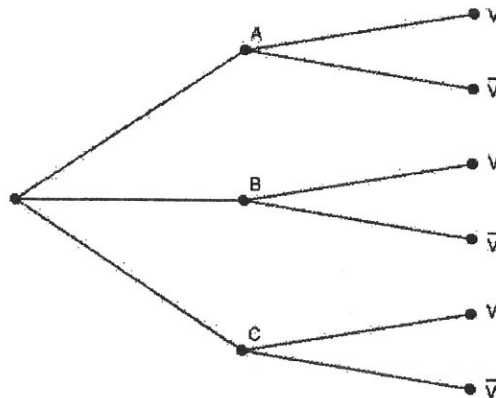
V : « Le client commande du vin »

Si A et B désignent deux événements d'une même expérience aléatoire, alors on notera \bar{A} l'événement contraire de A , $p(A)$ la probabilité de l'événement A , et $p_A(B)$ la probabilité de l'événement B sachant que A est réalisé.

Les probabilités demandées seront arrondies, si c'est nécessaire, au centième.

1) Calculer $p(C)$.

2) Reproduire et compléter l'arbre de probabilités donné ci-dessous.



3) Montrer que $p(V) = 0,45$.

4) Le client commande du vin. Calculer la probabilité qu'il ait choisi la formule A .

5) La formule A coûte 8 euros, la formule B coûte 12 euros et la formule C coûte 15 euros. Le vin est en supplément et coûte 3 euros. On note D la dépense en euro d'un client venant manger à midi dans ce restaurant.

a) Déterminer la loi de probabilité de D .

b) Calculer la dépense moyenne par client en euro.



EXERCICE 3 (6 points)

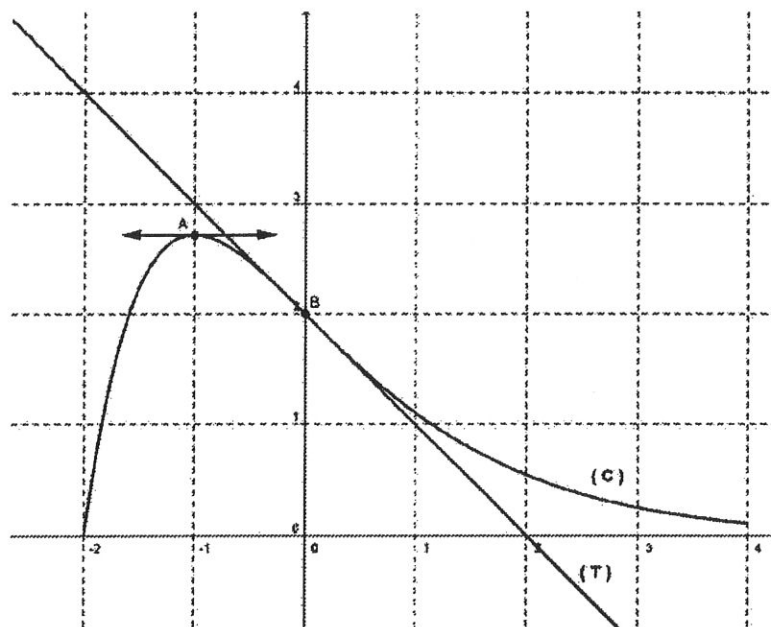
Commun à tous les candidats

Partie A

On donne ci-dessous, dans un repère orthonormé $(O; \vec{i}, \vec{j})$, la courbe représentative (C) d'une fonction f définie et dérivable sur l'intervalle $[-2; 4]$.

On nomme A le point de (C) d'abscisse -1 et B le point de (C) d'abscisse 0 .

- La fonction f est strictement croissante sur l'intervalle $[-2; -1]$ et strictement décroissante sur l'intervalle $[-1; 4]$.
- La tangente à (C) au point A est horizontale.
- La droite (T) est la tangente à (C) au point B et a pour équation $y = -x + 2$.



Pour chacune des questions qui suivent, toute réponse sera justifiée.

- 1) a) Donner la valeur de $f'(-1)$.
b) Déterminer le signe de $f'(2)$.
c) Interpréter graphiquement $f'(0)$, puis donner sa valeur.
- 2) Encadrer, avec deux entiers consécutifs, l'intégrale $\int_{-1}^0 f(x) dx$ exprimée en unités d'aire.

Partie B

La fonction f de la partie A a pour expression $f(x) = (x+2)e^{-x}$.

- 1) Calculer la valeur exacte de l'ordonnée du point A de la courbe (C) .
- 2) Justifier par le calcul le sens de variation de la fonction f sur l'intervalle $[-2; 4]$.
- 3) Montrer que la fonction F définie sur l'intervalle $[-2; 4]$ par $F(x) = (-x - 3)e^{-x}$ est une primitive de f .
- 4) a) Calculer la valeur exacte de l'intégrale $\int_{-1}^0 f(x) dx$.
b) Vérifier la cohérence de ce résultat avec celui de la question 2) de la partie A.

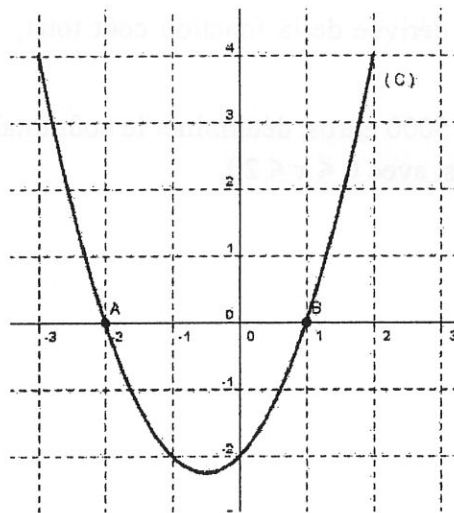


EXERCICE 4 (3 points)

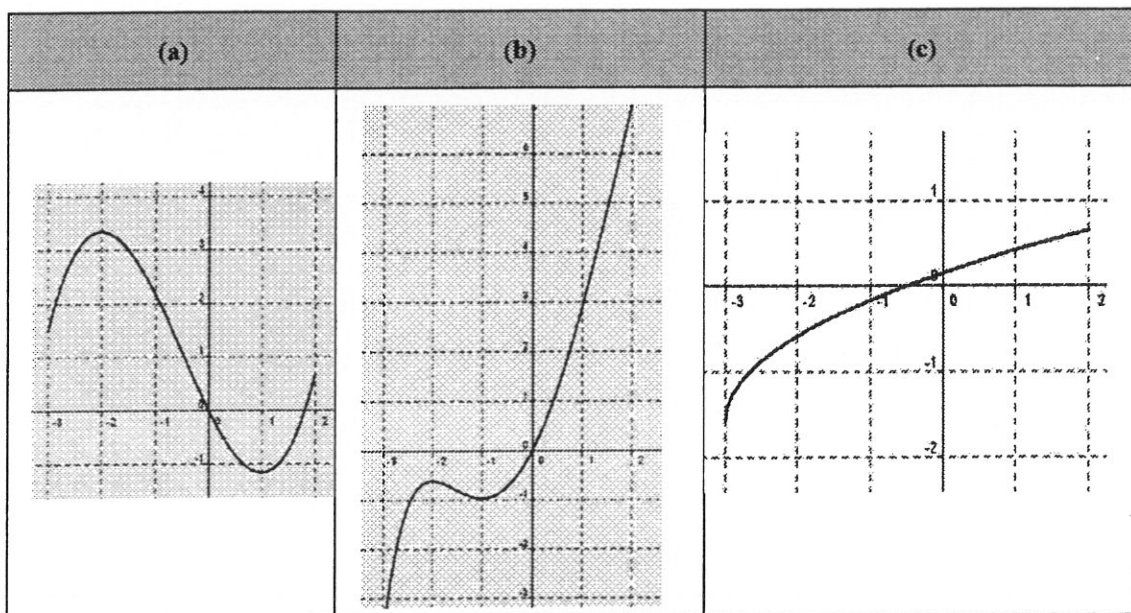
Commun à tous les candidats

Les questions 1, 2 et 3 sont indépendantes

1) On donne ci-dessous, dans un repère orthonormé, la courbe (C) d'une fonction f définie sur l'intervalle $[-3; 2]$. La courbe (C) coupe l'axe des abscisses au point A d'abscisse -2 et au point B d'abscisse 1 .



Parmi les trois courbes proposées ci-dessous, déterminer la seule qui représente une primitive de f sur l'intervalle $[-3; 2]$. Justifier la réponse.



2) On admet que l'équation $x e^{2x-1} = 2$ n'a qu'une seule solution α dans \mathbf{R} .
Déterminer une valeur approchée de α à 10^{-2} près.

3) Dans cette question, toute trace de recherche, même incomplète, sera prise en compte.

Une entreprise produit des tentes. Le coût marginal, en milliers d'euros, pour la production de x centaines de tentes, avec $0 \leq x \leq 20$ est donné par la fonction f définie sur l'intervalle $[0; 20]$ par

$$f(x) = \frac{2}{x+1}.$$

On note C la fonction qui représente le coût total exprimé en milliers d'euros pour une production de x centaines de tentes, avec $0 \leq x \leq 20$.

On assimile le coût marginal à la dérivée de la fonction coût total, c'est-à-dire à la dérivée de la fonction C .

Sachant que les coûts fixes sont de 5000 euros, déterminer le coût total en milliers d'euros, pour une production de x centaines de tentes, avec $0 \leq x \leq 20$.

