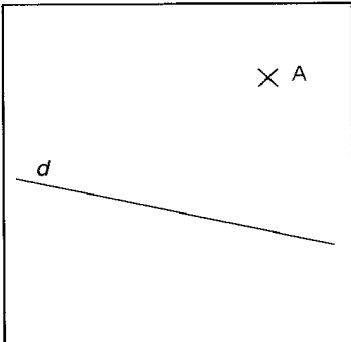
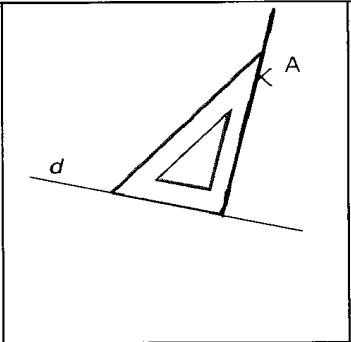
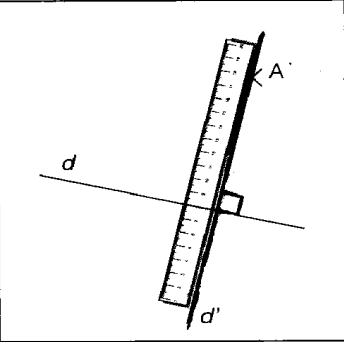
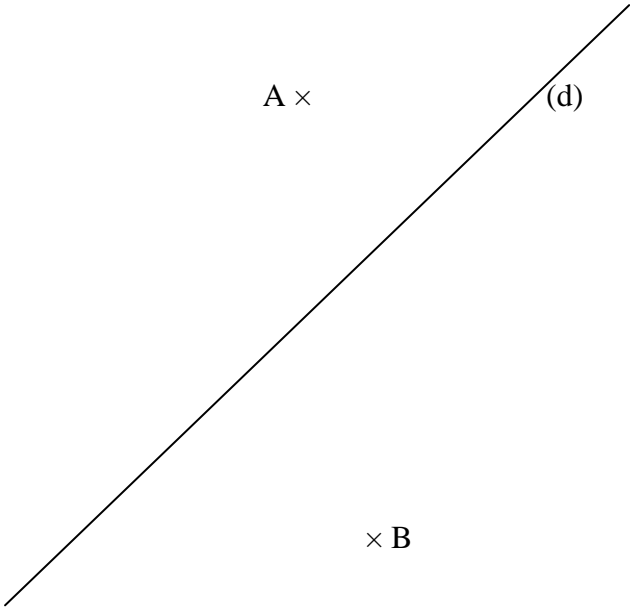


TD : Construction de perpendiculaires

		
<p>Un côté de l'angle droit est posé sur d, l'autre côté de l'angle droit passe par A.</p>	<p>On prolonge le tracé de d' à la règle.</p>	

1°) Tracer la droite (d') perpendiculaire à la droite (d) et passant par le point A puis la droite (d_1) perpendiculaire à la droite (d) et passant par le point B .



2°) Placer un point C sur la droite (d_1) et construire la perpendiculaire à la droite (d_1) passant par le point C .

3°) Que peut-on conjecturer ?